

Bezpieczeństwo

Sprawdzanie przytomności

Wezwanie pomocy

**Sprawdzanie
oddechu**

Jest oddech

**Pozycja
boczna**

Brak oddechu

**Oddechy
ratownicze**

**Uciskanie klatki
piersiowej**



Bezpieczeństwo



Sprawdzanie przytomności



Wezwanie pomocy



Numer 112



Sprawdzanie oddechu



Pozycja boczna




Oddechy ratownicze



Uciskanie klatki piersiowej

1. ROZWIĄŻ KRZYŻÓWKĘ I ODCZYTAJ HASŁO.



1. TAM KUPISZ KSIĄŻKI.
2. TAM KUPISZ GAZETY.
3. SZYNKA, KIEŁBASA I PARÓWKI TO...
4. TAM KUPISZ LEKARSTWA.
5. TAM KUPISZ CHLEB I BUŁKI.

2. WPISZ I ODCZYTAJ HASŁO.

--	--	--	--	--

Z liter w ramce utwórz imiona dziewczynek i wpisz je pod ramką.

r	k	a	o	K	i	n	l	a
---	---	---	---	---	---	---	---	---

n	a	A	i
---	---	---	---

k	a	a	P	n	u	i	l
---	---	---	---	---	---	---	---

a	t	M	r	a
---	---	---	---	---

a	s	ł	M	i	g	o	a
---	---	---	---	---	---	---	---

a	i	K	s	a
---	---	---	---	---



PRZYJRZYJ SIĘ MENU.

POWIEDZ, ILE KOSZTUJĄ POTRAWY I NAPOJE.

MENU



ZUPA 3 Zł



FRYTKI 3 Zł



KOTLET 6 Zł



SPAGETTI 7 Zł



PIEROGI 6 Zł



NALEŚNIKI 5 Zł



KURCZAK 8 Zł



PIZZA 10 Zł



SURÓWKA 4 Zł



KAWA 5 Zł



HERBATA 4 Zł



SOK 3 Zł

1. OLA ZAMÓWIŁA W RESTAURACJI:



ZA

ZŁ



ZA

ZŁ



ZA

ZŁ

ILE ZAPŁACIŁA OLA?

OBLICZ: ZŁ + ZŁ + ZŁ = ZŁ

ODPOWIEDŹ: OLA ZAPŁACIŁA ZŁ.

2. ADAM ZAMÓWIŁ W RESTAURACJI:



ZA

ZŁ



ZA

ZŁ



ZA

ZŁ

ILE ZAPŁACIŁ ADAM?

OBLICZ: ZŁ + ZŁ + ZŁ = ZŁ

ODPOWIEDŹ: ADAM ZAPŁACIŁ ZŁ.

3. KTO ZAPŁACIŁ WIĘCEJ?

ZAZNACZ ✓ PRAWIDŁOWĄ ODPOWIEDŹ.



OLA:

ZŁ



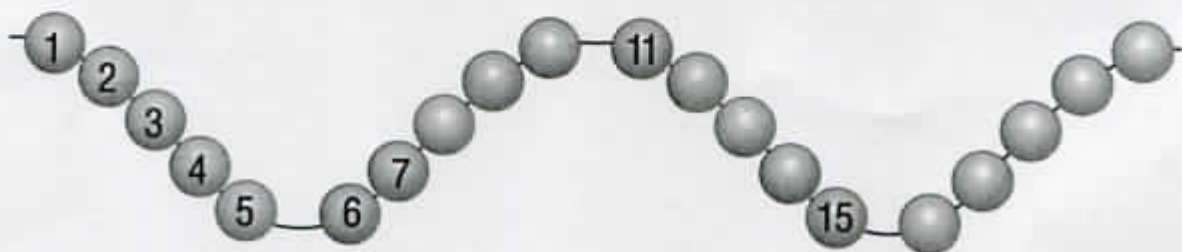
ADAM:

ZŁ

1 Przeczytaj i uzupełnij zapisy.

1 jeden	6 sześć	11 jedenaście
2	7 ..	dwanaście
3 trzy	osiem	13
4	dziewięć	14 czternaście
pięć	10 ..	15

2. Ponumeruj koraliki





3. Zapisz liczby, zaczynając od najmniejszej

siedemnaście
pięć
dwanaście

osiem
piętnaście
dziesięć



4. Policz kropki w każdym kwadracie
Uzupełnij szlaczek



Razem kropek

1. Znajdź liczbę największą. Połącz liczby od największej do najmniejszej, to otrzymasz hasło

13
W

11
I

9
T

12
P

10
A

8
E

6
K

7
J

19
W

5
L

18
I

4
A

17
T

3
S

16
A

2
I

1
E

15
M

14
Y

0
!

Napisz hasło.

19 18 17 16 15 14 13 12 11 10 9 8 7 6 5 4 3 2 1 0

□ □ □ □ □ □ □ □ □ □ □ □ □ □ □ □ □ □ □ □

1. Uzupełnij według wzoru.



$$12 = 10 + 2$$

$$15 = 10 + \square$$

$$16 = 10 + \square$$

Pokoloruj kostki i uzupełnij równości



$$16 = 10 + \square$$



$$19 = 10 + \square$$



$$13 = 10 + \square$$



$$18 = 10 + \square$$

2. Wykonaj odejmowania.

$$19 - 9 = \square$$

$$13 - 10 = \square$$

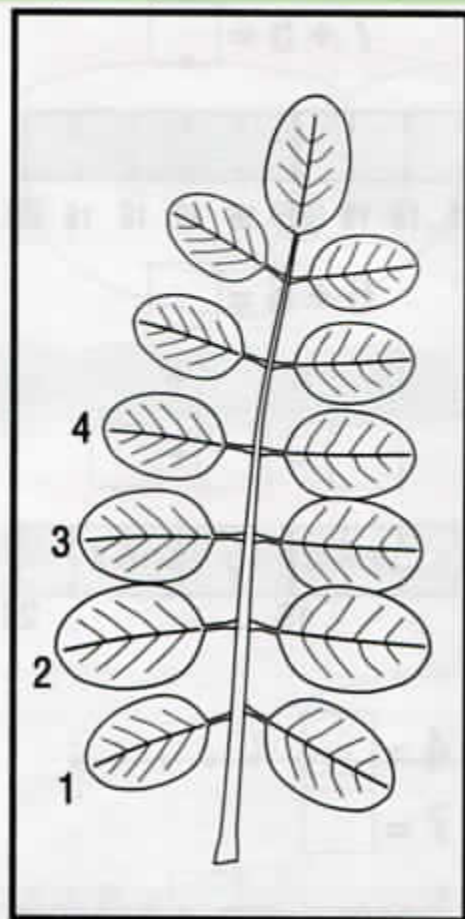
$$13 - 3 = \square$$

$$16 - 10 = \square$$

$$18 - 8 = \square$$

$$16 - 6 = \square$$

1. Z jakiego drzewa zerwano liść ?
Wykonaj działania i wpisz litery do tabelki. Sprawdź, czy zgadłeś.



$$8 + 6 = \square \text{ J}$$

$$3 + 7 = \square \text{ A}$$

$$7 + 5 = \square \text{ A}$$

$$9 + 6 = \square \text{ A}$$

$$8 + 3 = \square \text{ K}$$

$$9 + 4 = \square \text{ C}$$

10	11	12	13	14	15
<input type="text"/>	<input type="text"/>	<input type="text"/>	<input type="text"/>	<input type="text"/>	<input type="text"/>

2. Ponumeruj listki. Ile ich jest ?

Pokoloruj listki zgodnie z wynikami działań.

zielony

$$3 - 1 = \square \quad 4 + 0 = \square \quad 10 - 5 = \square \quad 16 - 10 = \square$$


brązowy

$$\begin{array}{l} 19 - 10 = \square \\ 14 - 3 = \square \\ 10 + 0 = \square \end{array}$$

żółty

$$\begin{array}{l} 9 - 8 = \square \quad 9 - 6 = \square \\ 9 + 3 = \square \quad 9 - 1 = \square \\ 17 - 10 = \square \quad 5 + 8 = \square \end{array}$$

1. Pokoloruj obrazek zgodnie z umową.



$$9 + 1 = \square$$

$$8 + 4 = \square \text{ czerwony}$$

$$9 + 6 = \square$$

$$8 + 8 = \square \text{ zielony}$$

$$7 + 7 = \square$$

$$9 + 4 = \square \text{ żółty}$$

$$9 + 2 = \square$$

$$9 + 9 = \square \text{ czarny}$$

$17 - 9 = \square$

$7 + 6 = \square$

$5 + 7 = \square$

$9 + 8 = \square$

$13 - 6 = \square$

$12 - 5 = \square$

$17 - \square = 8$

$13 - \square = 6$

$\square - 7 = 5$

2. Jak nazywa się to ziele? Wpisz odpowiednie litery pod kolejnymi numerami w tabelce, to otrzymasz nazwę.



$20 - 6 = \square$ Ł

$8 + 7 = \square$ W

$4 + 7 = \square$ S

$19 - 3 = \square$ I


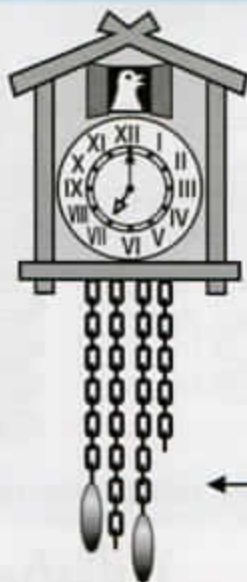
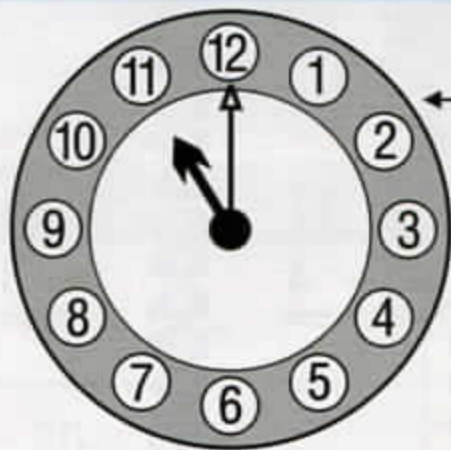
$15 - 3 = \square$ Z

$9 + 8 = \square$ A

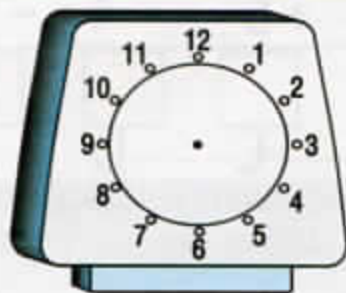
$7 + 6 = \square$ A

11	12	13	14	15	16	17

Która jest godzina?



Odczytaj podane godziny i dorysuj obie wskazówki.




6⁰⁰



9⁰⁰

Oblicz.



$13 - 5 = \square$

$7 + 6 = \square$

$8 + 4 = \square$

$12 - 4 = \square$

$15 - 8 = \square$

$17 - 8 = \square$

$9 + 5 = \square$

$15 - 6 = \square$

Znajdź sumę liczb.

$20 + 1 = 21$

$20 + 2 = \square$

$30 + 5 = \square$

$20 + 5 = \square$

$20 + 9 = \square$

$30 + 7 = \square$

$20 + 3 = \square$

$30 + 2 = \square$

$40 + 3 = \square$

Znajdź różnicę liczb.

$23 - 3 = 20$

$27 - 5 = \square$

$32 - 2 = \square$

$22 - 2 = \square$

$29 - 4 = \square$

$34 - 4 = \square$

$20 - 3 = \square$

$30 - 2 = \square$

$37 - 2 = \square$

Uzupełnij.

$22 = 20 + \square$

$30 + \square = 32$

$40 + \square = 42$

$22 = \square + 2$

$35 = 30 + \square$

$45 = 40 + \square$

$20 + \square = 21$

$34 = \square + 4$

$45 = \square + 5$