

# Temat: TRAPEZ – ROZWIĄZYWANIE ZADAŃ

## Zadanie 1.

Uzupełnij zdania:

Czworokąt, który ma co najmniej jedną parę boków równoległych, nazywamy .....

Suma miar kątów leżących przy tym samym ramieniu trapezu jest równa .....

Boki równoległe nazywamy ..... trapezu, a pozostałe .....

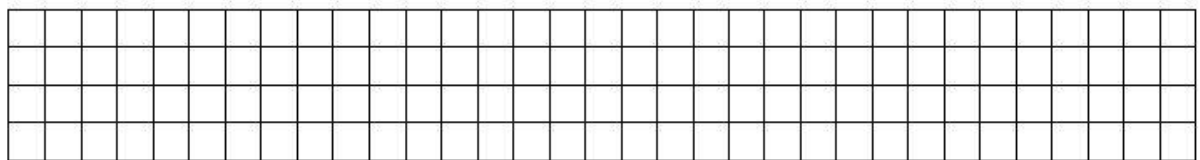
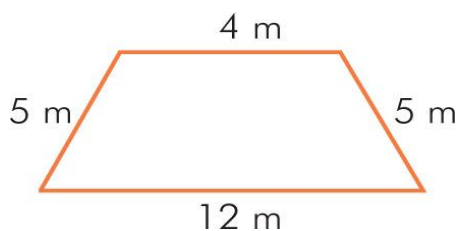
trapezu. Trapez którego jedno ramię tworzy z podstawami figury kąt prosty nazywamy

trapezem..... Trapez, którego ramiona są równej długości,

nazywamy trapezem .....

## Zadanie 2.

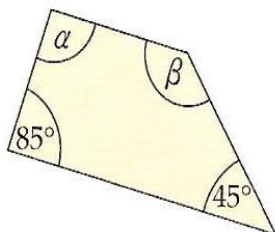
Oblicz obwód trapezu.



Odpowiedź.....

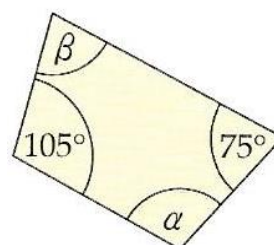
## Zadanie 3.

Podaj miary kątów oznaczonych literami greckimi.



$\alpha =$

$\beta =$



$\alpha =$

$\beta =$