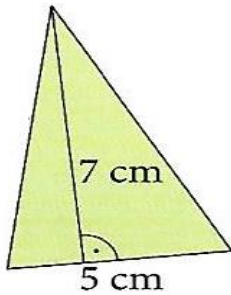


# TEMAT: POLE TRÓJKĄTA- ROZWIĄZYWANIE ZADAŃ.

Oblicz pola poniższych trójkątów:

A)



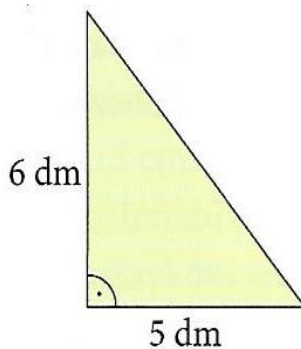
a=.....

h =.....

P=.....

.....

B)



a =.....

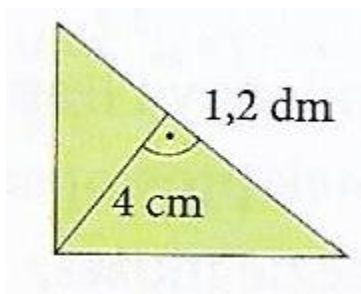
h =.....

P=.....

.....

C)

**Pamiętaj o zamianie jednostek –muszą być takie same !!!** dm zamień na cm. 1 dm = 10 cm



a =.....

h =.....

P=.....

.....