
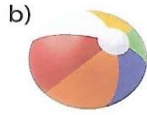


PROSTOPADŁOŚCIANY

ZADANIE 1

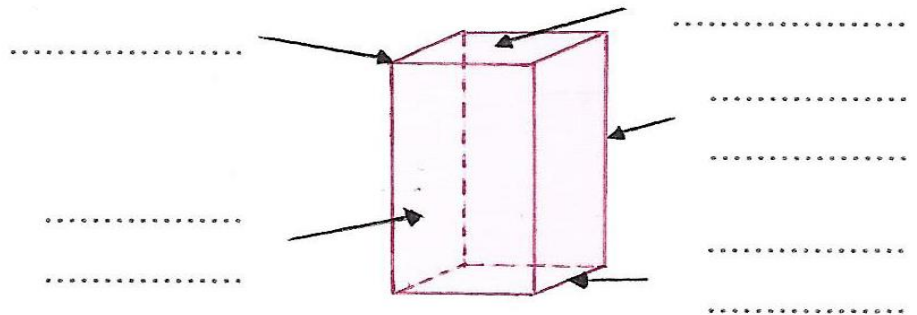
Spośród poniższych zdjęć wybierz i zaznacz te, na których przedstawione przedmioty i budowle przedstawiają prostopadłościany.



ZADANIE 2

Użyj podanych nazw i opisz prostopadłościan.


wierzchołek
krawędź podstawy
krawędź boczna
ściana boczna
podstawa




ZADANIE 3

Uzupełnij zdania:

Prostopadłościan mawierzchołków,krawędzi i ścian.

Zadanie 4

Pokoloruj figury, które mogą być ścianami prostopadłościan.



Dokończ zdanie

Każda ściana prostopadłościanu jest.....