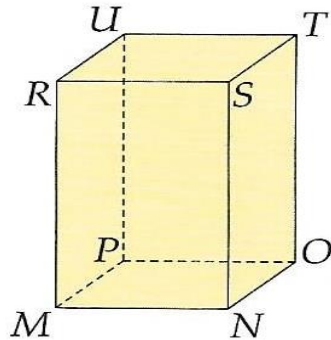


TEMAT: PROSTOPADŁOŚCIAN – ROZWIĄZYWANIE ZADAŃ.

ZADANIE 1.

Napisz, jakie wierzchołki ma prostopadłościan widoczny na rysunku. Uzupełnij zdania.

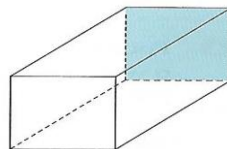

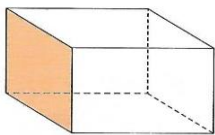


Wierzchołki

W prostopadłościanie wszystkie ściany mają kształt.....

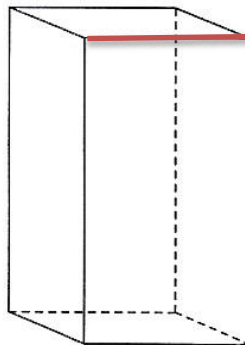
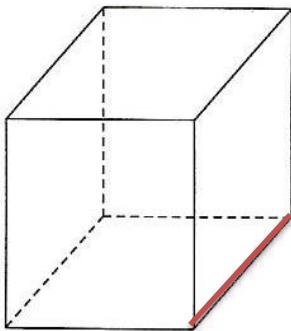
ZADANIE 2.

Pokoloruj ścianę o takich samych wymiarach jak zamalowana ściana.



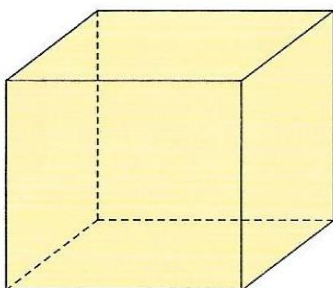
ZADANIE 3.

Zaznacz kolorem krawędzie o takiej samej długości jak długość wyróżniona na rysunku.



ZADANIE 4.

Uzupełnij zdanie.



Sześcian to prostopadłościan,
którego wszystkie krawędzie są

.....,

a ściany są jednakowymi

.....