



POLA WIELOKĄTÓW – POWTÓRZENIE WIADOMOŚCI

1. Oblicz pole kwadratu o boku długości 5 cm




Odp.....

2. Oblicz pole prostokąta o bokach długości $a=3\text{cm}$, $b = 7\text{cm}$




Odp.....

3. Oblicz pole równoległoboku , w którym jeden z boków jest równy 6 cm, a wysokość opuszczona na ten bok ma długość 10 cm.




Odp

4. Oblicz pole rombu, którego przekątne mają długość 5 cm i 7 cm.




Odp

5. W trójkącie ostrokątnym jeden z boków jest równy 10 cm a wysokość opuszczona na ten bok ma długość 15cm. Oblicz pole tego trójkąta.



Odp.....

6. Oblicz pole trapezu, jeżeli jego podstawy są równe 8cm i 9 cm, a wysokość wynosi 10 cm.



Odp.....