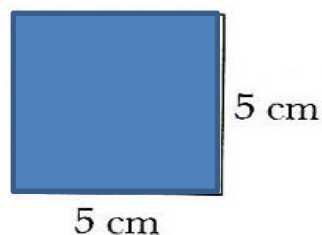



# TEMAT: POLE PROSTOKĄTA I KWADRATU- ROZWIĄZYWANIE ZADAŃ

Oblicz pole prostokąta i kwadratu oraz obwód prostokąta i kwadratu. Porównaj otrzymane pola oraz otrzymane obwody – w każdym przypadku wstaw odpowiedni znak : < , > , =;

a)



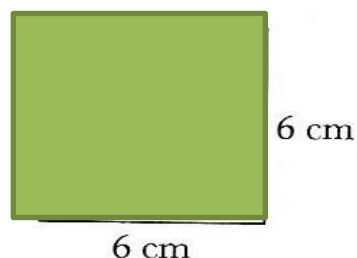
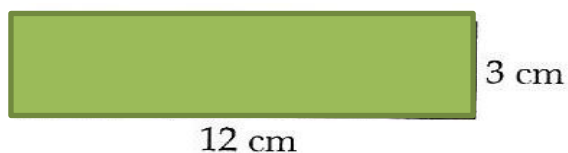
P = .....

P = .....

Obw. = .....

Obw. = .....

b)



P = .....

P = .....

Obw. = .....

Obw. = .....