

TEMAT: POLE FIGURY

Link do tematu:

<https://youtu.be/cWGPWHZy-Hg>

Pole powierzchni figury, to ilość kwadratów jednostkowych pokrywających tę figurę.

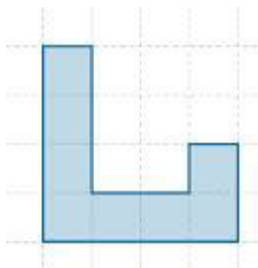
Aby porównać pola kilku figur należy wypełnić te figury jednakowymi elementami.

Elementami wypełniającymi figurę są najczęściej kwadraty

ZADANIE 1.

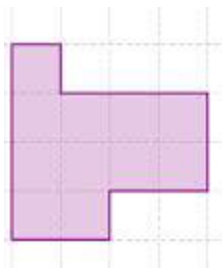
Ile kwadratów mieści się w narysowanej figurze

A)



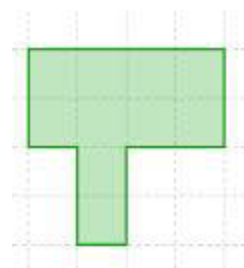
A).....

B)



B).....

C)



C).....

ZADANIE 2.

Narysuj dwie różne figury, których pole wynosi 12 kwadratów.

