

# QUIZ MATEMATYCZNY

ZAZNACZ POPRAWNĄ ODPOWIEDŹ.

1. Jak nazywa się wynik dodawania:

- Suma
- Różnica

2. Różnica liczb 15 i 8 wynosi:

- 7
- 23

3. Który zegar wskazuje godzinę 11: 25?

A.



B.




- A
- B

4. Który termometr wskazuje temperaturę 15°C?

A.



B.




- A
- B

5. Babcia kupiła 20 cm taśmki białej i 32 cm taśmki czerwonej. Ile taśmki kupiła babcia?


- 52 CM
- 45 CM

6. Na której półce jest więcej litrów soku?

A.



B.



- A
- B

7. Właściwą, pasującą do schematu liczbą jest:

3 , 6 , 9 , 12 , \_\_\_\_ , 18 , 21

- 15
- 16

8. Jak zapiszemy 1 kilogram w skrócie?

- 1 km
- 1 kg

9. Ile minut trwa godzina?

- 45 min
- 60 min

10. Ile miesięcy ma rok?

- 12
- 10