

MICHAŁ,

na kolejnych stronach znajdują się tematy lekcji do opracowania w terminie:
15.04-17.04.2020r.:

1. Mierzenie i kreślenie kątów.
2. Wielokąty i ich rodzaje.

Zadania możesz wykonywać w zeszyte i odsyłać w formie skanów lub zdjęć do końca danego tygodnia na adres sp17soswpt@gmail.com.

Bardzo ważne!

Prace nadsyłane na e-mail sp17soswpt@gmail.com

powinny w nazwie zawierać: **nazwisko, klasę i przedmiot.**

Bardzo proszę o odesłanie rozwiązanych zadań do piątku (17.04)

Gdybyś miał jakieś trudności lub pytania możesz się ze mną kontaktować za pomocą w/w maila lub za pośrednictwem Pani Karoliny.

Pozdrawiam Cię bardzo serdecznie!

p. Pokorska

TEMAT: MIERZENIE I KREŚLENIE KĄTÓW. – 1h (ŚRODA - 15.04)

Wykonaj w zeszytcie zadanie i odeślij rozwiązane zadanie.

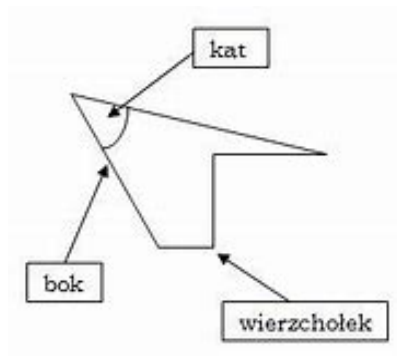
UWAGA! (WSZYSTKIE WIADOMOŚCI SĄ PRZEDSTAWIONE NA PLIKU W ZESZŁYM TYGODNIU)

Narysuj w zeszytcie kąt prosty, półpełny, pełny. Podaj ich miary.

TEMAT: WIELOKĄTY I ICH RODZAJE. 1 h (CZWARTEK 16.04)


Wielokąt to figura geometryczna, która składa się z łamanej zamkniętej zwyczajnej i jej wnętrza.

Każdy wielokąt ma: boki, kąty i wierzchołki.



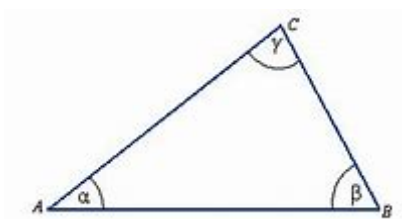
Figury przedstawione na rysunku poniżej to wielokąty.

Policz ile kątów, boków i wierzchołków mają narysowane wielokąty. Co zauważyłeś?

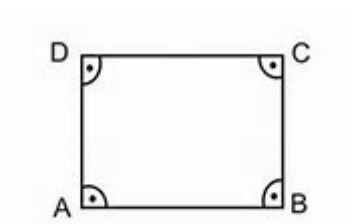


ZAPAMIĘTAJ! W wielokącie liczba boków, kątów i wierzchołków jest taka sama.

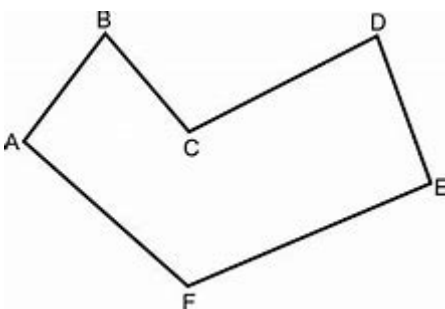
Aby nazwać wielokąt wystarczy policzyć ile ma kątów, np.:



Wielokąt ma **trzy kąty** więc jest to **trójkąt**.



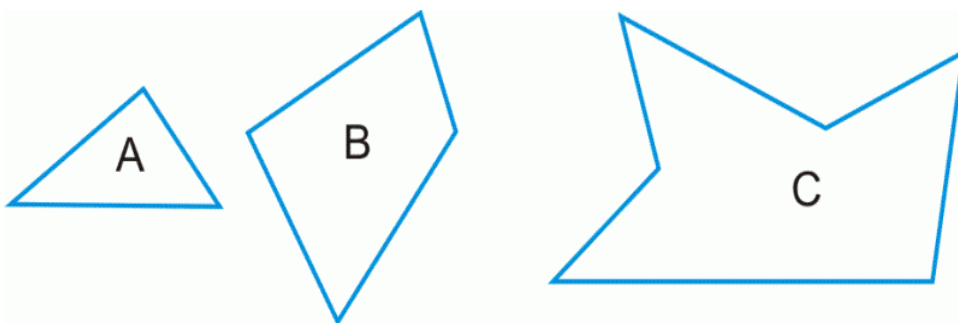
Wielokąt ma **cztery kąty** więc jest to **czworokąt**.



Wielokąt ma **sześć kątów** więc jest to **sześciokąt**.

ZADANIA DO WYKONANIA W ZESZYCIE

ZADANIE 1. Policz kąty, wierzchołki i boki w narysowanych wielokątach. Nazwij te wielokąty.



A:; B:; C:

ZADANIE 2.

Narysuj łamaną zamkniętą złożoną z więcej niż czterech odcinków.

Zamaluj jej wnętrze. Policz kąty. Nazwij wielokąt, który narysowałeś.

ZADANIE 3. Odeślij rozwiązanie tego zadania.

Jak nazywa się wielokąt, który ma:

- A) sześć kątów
- B) pięć boków
- C) jednaście kątów