

27 – 30.04

Rozpoczynamy kolejny tydzień nauki. W tym tygodniu uczymy się tylko do czwartku. Piątek jest wolny z racji Święta Pracy.

Wszystkim, którzy w poprzednim tygodniu odesłali prace do sprawdzenia serdecznie dziękuję. Pracujcie wytrwale i systematycznie. Zawsze, gdybyście mieli jakieś trudności, czy pytania, możecie do mnie napisać na e-mail sp17soswpt@gmail.com. Odpowiem na pewno.

Wszystkie tematy znajdują się na kolejnych stronach.

Nie pomiń żadnego tematu!

Matematyka

1. Obwód wielokąta. **27.04 poniedziałek**
- 2, 3. Obwód prostokąta i kwadratu. Zadania. **28.04 wtorek, 29.04 środa**
4. Okrąg i koło. **30.04 czwartek**

PRZYPOMINAM!

- Odsyłajcie prace systematycznie!
- Przepisujcie tematy oraz ćwiczenia do zeszytu.
- **Dbajcie o swoje zdrowie i bezpieczeństwo!**
- Prace nadsyłane na e-mail sp17soswpt@gmail.com powinny w nazwie zawierać: **nazwisko, klasę i przedmiot.**
- Gdybyście mieli do mnie pytania piszcie na w/w e-maile.
- Bardzo proszę o odesłanie rozwiązanych zadań do piątku 30.04.

POZDRAWIAM BARDZO SERDECZNIE!

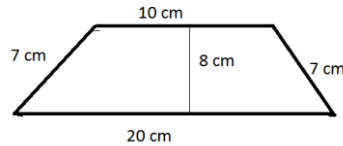
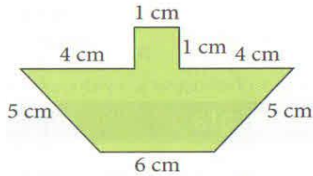
Temat 1. Obwód wielokąta. 27.04 poniedziałek

Czy pamiętasz, jak obliczyć obwód wielokąta?

Należy dodać do siebie długości jego wszystkich boków, czyli obliczyć sumę długości wszystkich boków.

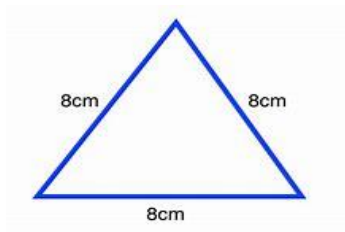
Czas na ćwiczenie.

Wybierz jeden wielokąt z narysowanych poniżej i oblicz jego obwód.

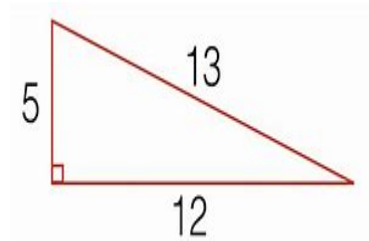


Ob. =

Ob. =



Ob. =



Ob. =

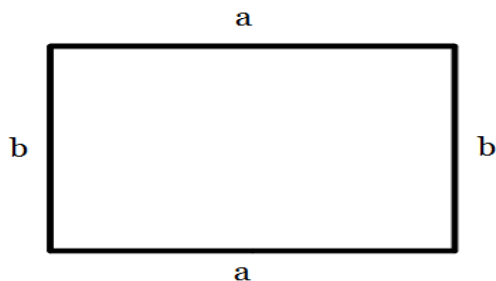
Temat 2. Obwód prostokąta i kwadratu - zadania. 28.04 wtorek, 29.04 środa

ZADANIE 1.

Babcia ma ogródek warzywny w kształcie prostokąta, który chce ogrodzić.

Długość ogródka wynosi 8m, a szerokość 6m.

Oblicz: **Ile metrów siatki trzeba kupić na ogrodzenie?**



Rozwiązanie: Ob =

Odp. Na ogrodzenie trzeba kupić metrów siatki.

ZADANIE 2.

Narysuj kwadrat o boku długości 6cm i oblicz jego obwód.

Temat 3. Okrąg i koło. 30.04 czwartek

Na początek obejrzyj film.

<https://pistacia.tv/film/mat00229-okrag-i-kolo-wprowadzenie?playlist=546>

Co to jest koło i okrąg.



okrąg



koło

Koło to inaczej zamalowany okrąg.

Przedmioty codziennego użytku, które mają kształt **okręgu**



WIANEK



BRANSOLETKA

Przedmioty codziennego użytku, które mają kształt **koła**.

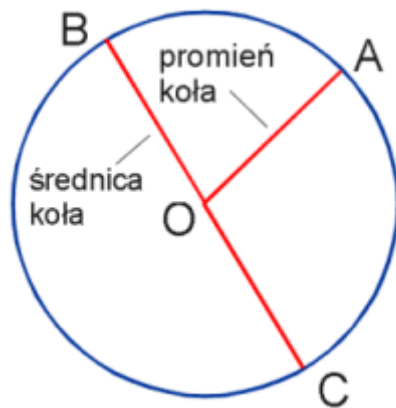


TACA



POKRYWKA

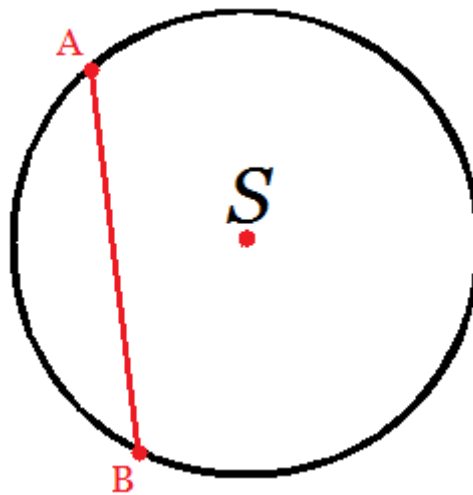
Co to jest promień, średnica, cięciwa .



Środek koła lub **okręgu** - punkt O

Promień koła lub **okręgu** – to odcinek, którego jednym końcem jest środek okręgu, a drugim punkt okręgu - odcinek AO. Promień oznaczamy małą literą r.

Średnica koła lub **okręgu** to odcinek łączący dwa punkty brzegu koła (okręgu) i przechodzący przez środek koła (okręgu). Odcinek BC.



Cięciwa koła lub **okręgu** jest to odcinek łączący dwa punkty brzegu koła (okręgu). Odcinek AB. Najdłuższą cięciwą w kole (okręgu) jest średnica.

Zadanie domowe:

Podaj po 3 przykłady przedmiotów z twojego otoczenia, które mają kształt:

- koła
- okręgu