

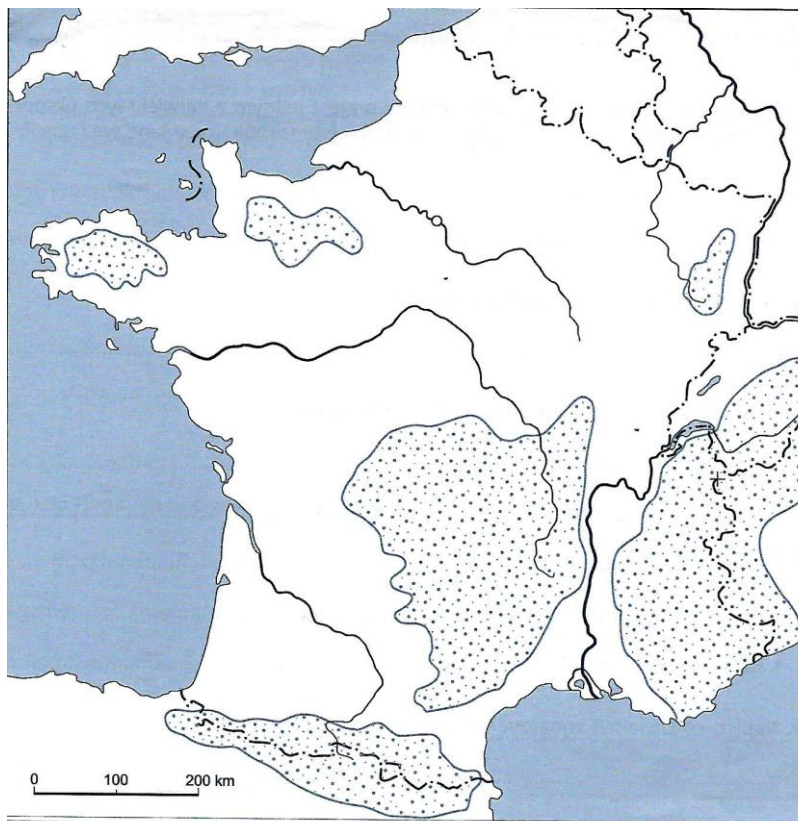
Nie zapomnij, karta SPRAWDŹ SIĘ, służy do utrwalenia Twojej wiedzy z danej lekcji. Kiedy ją wypełnisz, wyślij na adres mailowy: [sp17soswpt@gmail.com](mailto:sp17soswpt@gmail.com)

Nie zapomnij w tytule maila wpisać: **imię i nazwisko** oraz **GEOGRAFIA**.

### SPRAWDŹ SIĘ

1. Zaznacz na mapie konturowej góry:

- Pireneje,
- Masyw Centralny,
- Jura,
- Alpy;




2. Pokoloruj flagę

Francji



a. Pokoloruj flagę Francji.



3. Co wpłynęło na rozwój przemysłu we Francji?

- .....
- .....

4. Dokończ zdanie:

Usługi to część gospodarki, która ma na celu ..... oraz .....

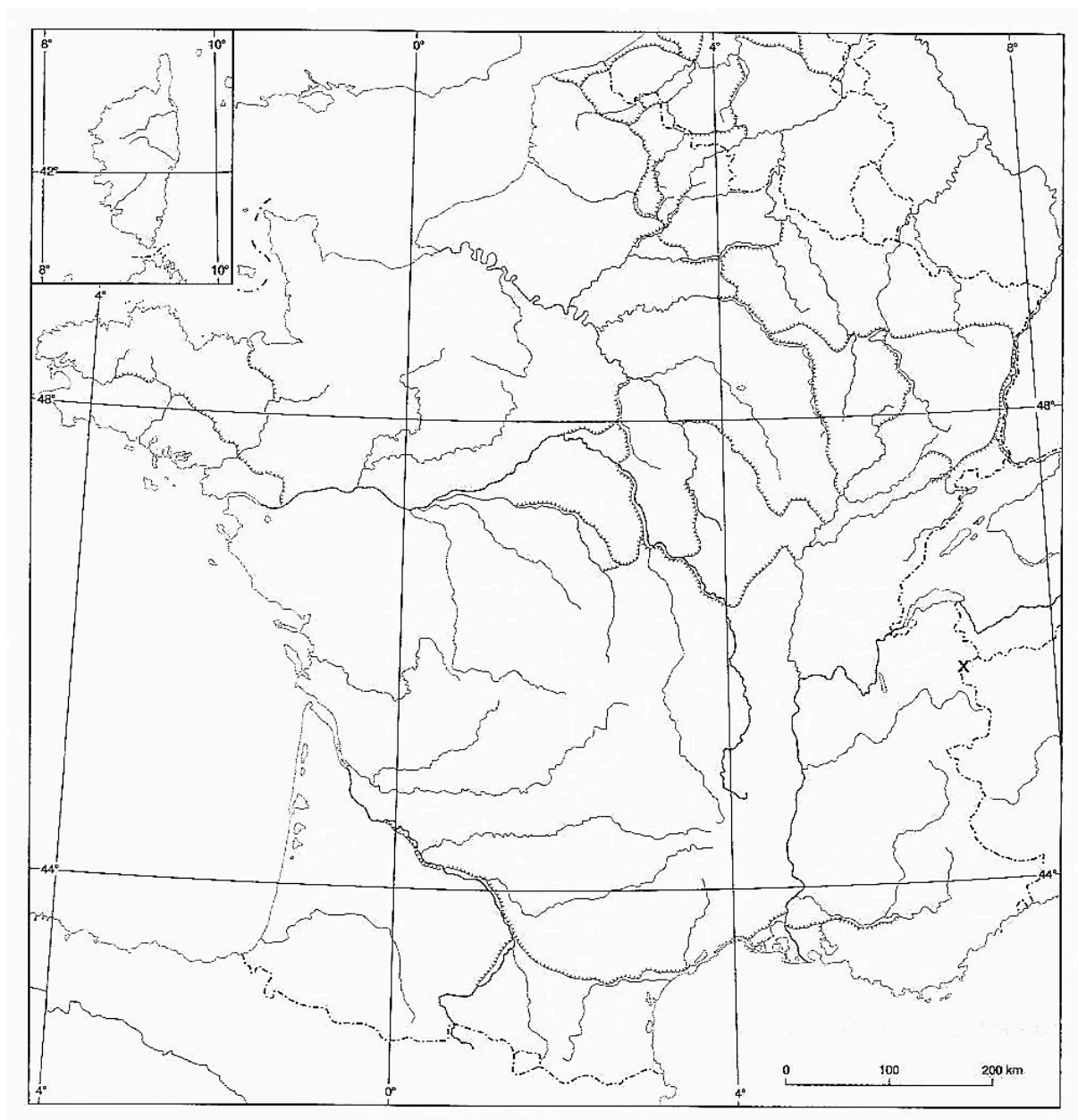
Kraje wysoko rozwinięte gospodarczo mają więcej ludzi zatrudnionych .....

Bardzo dobrze rozwiniętym działem usług jest: transport, usługi badawczo – rozwojowe, .....

usługi telekomunikacyjne, ..... oraz usługi .....

**A to część dla ochotników! Praca na 6!**

**Jeżeli czujesz się na siłach i chcesz sprawdzić swoją umiejętność pracy z mapą, zachęcam Cię do wykonania tego zadania:**



Z pomocą atlasu wykonaj polecenia:

01. Pokoloruj kolorem **niebieskim** i podpisz: **Morze Śródziemne, Ocean Atlantycki, Zatokę Biskajską, Kanał La Manche, Cieśnina Kaletańska, Zat. Lwia.**
02. Kolorem **czzerwonym** zaznacz granice Francji.
03. Podpisz wyspę **KORSYKĘ**.
04. Podpisz rzeki: **Sekwana, Loara, Garonna, Rodan.**
05. Podpisz na mapie konturowej **Nizinę Francuską, półwysep Bretoński.**
06. Podpisz góry: **Pireneje, Wogezy, Masyw Centralny, Jura, Alpy.**
07. Podpisz największe miasta Francji: **Paryż, Bordeaux, Lyon, Marsylia, Tuluza.**
08. Zaznacz na mapie najwyższy szczyt Mont Blanc, napisz, jaką ma wysokość .....m.n.p.m