


TEMAT: WSKAZANIA ZEGARA

Zadanie 1.

Zapisz pod zegarami wskazane godziny lub dorysuj brakujące na zegarach wskazówki.



Zadanie 2.

Zapisz ile to minut.

Godzina to minut.

Kwadrans to minut.

Cztery kwadranse to minut.

Pół godziny to minut.

Trzy kwadranse to minut.

Dwa kwadranse to minut.

Zadanie 3.





Połącz określenia czasu z właściwym zegarem.

PÓŁ
GODZINY

KWADRANS

15 MINUT

3 KWADRANSE



GODZINA

45 MINUT

30 MINUT

60 MINUT